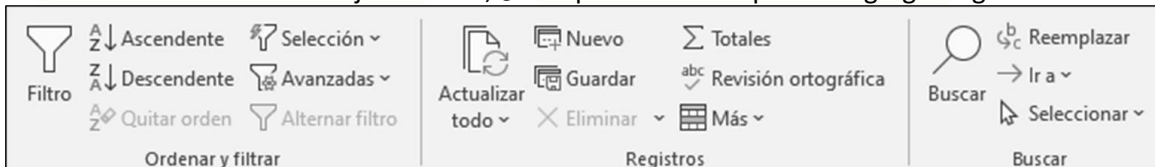


Cuestionario1 de Access

- El origen de un informe puede ser...
 - Tablas, consultas, formularios y otros informes
 - Solo tablas
 - Solo tablas y consultas
 - Tablas, consultas y formularios
- ¿Cuál sería el resultado de poner la expresión: <>Agosto en el criterio del campo mes de una consulta?
 - Muestra todos los meses menos Agosto
 - Muestra todos los meses que alfabéticamente estén antes y después de agosto
 - Muestra todos los meses que estén antes y después de agosto
 - La expresión es incorrecta, faltan comillas (“)
- ¿Cuál de los siguientes objetos no pertenece a la estructura de una base de datos en Access?
 - Plantillas
 - Módulos
 - Informes
 - Macros
- En una tabla de Access ¿Cuál de los siguientes tipos de datos es solo de lectura?
 - Número
 - Objeto OLE
 - Hipervínculo
 - Autonumeración
- ¿Cuál de las siguientes respuestas no es una vista de una consulta?
 - Vista Presentación
 - Vista Hoja de datos
 - Vista Diseño
 - Vista SQL
- Al tener una tabla en vista hoja de datos, ¿Con qué método se pueden agregar registros nuevos?



- Grupo Registros
 - Grupo Buscar
 - Ctrl++
 - Todas son correctas
- ¿Cuál de las siguientes afirmaciones sobre el diseño de una tabla es cierta?
 - La descripción de cada campo es obligatoria
 - Cada campo puede tener propiedades distintas
 - La clave principal es obligatoria
 - No es obligatorio asignar un tipo de datos a cada campo



8. ¿Qué indica el lápiz que aparece a la izquierda del registro de la tabla de la siguiente figura?

	Id	Compañía	Apellidos	Nombre
+	1	Compañía A	Benito	Almudena
+	2	Compañía B	Bermejo	Antonio
+	3	Compañía C	López	Arturo
	4	Compañía D	García	Vanessa
+	5	Compañía E	Gratacós Solso	Antonio

- a) Que se está editando el registro, se grabará cuando se cambie de registro
- b) El registro está seleccionado
- c) Que se está editando el registro, se grabará cuando se dé a intro
- d) Que se está editando el registro, se grabará cuando se cambie de campo

9. ¿Cuál de los siguientes filtros no pertenece a Access?

- a) Filtro de intervalos
- b) Filtro de texto
- c) Filtro de números
- d) Filtro de fechas

10. ¿Qué indica en signo + que aparece a la izquierda de cada registro?

	Id	Compañía	Apellidos	Nombre
+	1	Compañía A	Benito	Almudena
+	2	Compañía B	Bermejo	Antonio
+	3	Compañía C	López	Arturo
	4	Compañía D	García	Vanessa
+	5	Compañía E	Gratacós Solso	Antonio

- a) Que a cada registro de esta tabla (principal) le corresponden varios de otra tabla (relacionada)
- b) Que cada registro de esta tabla tiene más campos que no se ven
- c) Que a cada registro de esta tabla (relacionada) le corresponden varios registros de otra tabla (principal)
- d) Que hay varios registros de esta tabla (principal) que corresponden a uno de otra tabla (relacionada)

11. ¿Para qué se utiliza el signo & en Access?

- a) Es un operador que se usa como regla de validación de un campo
- b) Se usa para filtrar los registros de una tabla
- c) Es un comodín que se usa en los criterios de las consultas
- d) Es un operador que se usa para unir

12. ¿Cuál de las siguientes respuestas NO es un tipo de formulario rápido en Access?

- a) Formulario
- b) Formulario dividido
- c) Autoformulario
- d) Varios elementos

13. ¿Qué expresión es correcta para crear un campo calculado que multiplique dos campos en una consulta?

- a) total: cantidad*precio
- b) =[cantidad]*[precio]
- c) total:[cantidad*precio]
- d) total:[cantidad]*[precio]

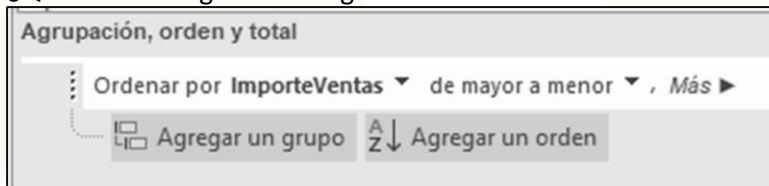
14. ¿Cuál de las siguientes respuestas es válida para entrar en las propiedades de un control en un formulario?
- a) Doble clic en el control
 - b) Alt+Intro
 - c) F4
 - d) Todas son válidas

15. ¿Para qué se utiliza el comando señalado con un círculo de la siguiente imagen?



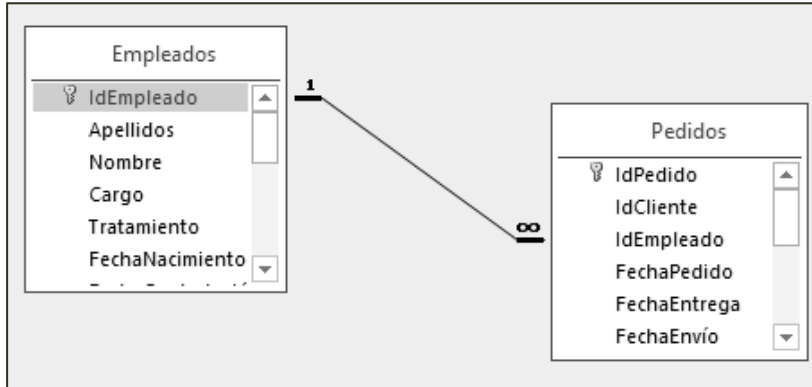
- a) Crea un salto de página en un formulario o informe
 - b) Crea un subformulario
 - c) Crea un cuadro combinado
 - d) Crea un subinforme
16. Para cambiar la manera en la que se van enfocando los campos de un formulario se ha de configurar...
- a) El orden de entrada
 - b) La alineación de los campos
 - c) El orden de tabulación
 - d) Las propiedades del formulario

17. ¿Qué indica la siguiente imagen?



- a) La manera en la que se agrupa y/o ordena una tabla
 - b) La manera en la que se agrupa y/o ordena un informe
 - c) La manera en la que se agrupa y/o ordena una consulta
 - d) La manera en la que se agrupa y/o ordena un formulario
18. ¿Cuál es el motivo para hacer una consulta de selección?
- a) Filtrar datos
 - b) Copiar datos
 - c) Borrar datos
 - d) Crear una tabla
19. ¿Cuál de los siguientes nombres de campo no es válido en una tabla de Access?
- a) Nombre Alumno
 - b) Nombre_Alumno
 - c) Nombre-Alumno
 - d) Nombre.Alumno

20. ¿Cuál de las siguientes afirmaciones NO es correcta sobre la imagen siguiente?



- a) No se puede modificar el nombre de un empleado por estar relacionado con los Pedidos.
- b) La tabla Empleados es principal y la tabla Pedidos relacionada.
- c) La tabla Empleados podría ser relacionada de otra tabla.
- d) La tabla Pedidos podría ser principal de otra tabla.

21. Se están rellenando los datos de los alumnos. Al llegar al campo DNI nos encontramos con el siguiente patrón: . . -

¿Qué propiedad ha intervenido?

- a) Valor predeterminado
- b) Regla de validación
- c) Máscara de entrada
- d) Texto de validación

22. ¿Qué extensión de archivo tienen las bases de datos creadas en Access?

- a) accdb
- b) mdb
- c) accbd
- d) accdbx

23. Si hubiera que editar el formato de un campo en un informe, por ejemplo para visualizarlo en cursiva ¿en qué vista habría que trabajar?

- a) Vista preliminar
- b) Vista Diseño
- c) Vista Presentación
- d) b y c son correctas

24. ¿Cuál de las siguientes respuestas NO pertenece a un informe de Access?

- a) Encabezado de sección
- b) Encabezado del informe
- c) Encabezado de página
- d) Encabezado del grupo

25. ¿Cuál sería el resultado de la siguiente consulta de la tabla Productos?

Productos				
*				
🔑 IdProducto				
NombreProducto				
IdProveedor				
IdCategoría				
CantidadPorUnic				

Campo:	NombreProducto	IdCategoría	PrecioUnidad	Unidades
Tabla:	Productos	Productos	Productos	
Orden:				
Mostrar:	<input checked="" type="checkbox"/>	<input checked="" type="checkbox"/>	<input checked="" type="checkbox"/>	<input checked="" type="checkbox"/>
Criterios:		"Herramientas"		
o:				> 5

- Todos los registros de la categoría Herramientas y que las unidades superen 5
- Todos los registros de la categoría Herramientas o que las unidades superen 5
- Todos los registros de la categoría Herramientas y que las unidades sean menor de 5
- Todos los registros de la categoría Herramientas o que las unidades sean menor de 5

26. ¿Qué tipo de objeto es el que aparece en la siguiente imagen de un formulario?

Situación

Armario

Panel





Estantería

- Grupo de opciones
- Botones de opción
- Cuadro combinado
- Opciones excluyentes

27. ¿Qué afirmación es la correcta?

- Access es un gestor de base de datos planas
- Access es un gestor de tablas
- Access es un gestor de base de datos relacionales
- Access es un gestor de base de datos integrales

28. ¿Qué icono representa a las consultas en Access?

- 
- 
- 
- 



29. Para Ver o Crear relaciones entre tablas ¿A qué ficha o pestaña de Access debemos acudir?
- Inicio
 - Herramientas de base de datos
 - Herramientas de tabla
 - Crear
30. Hay que realizar una base de datos con dos tablas. Una tabla de Campus donde almacenar todos los campus de la Universidad y otra tabla de Centros para introducir todos los centros con sus datos e indicar al campus que pertenece cada centro
¿Qué tipo de relación habrá que realizar entre la tabla Campus y la tabla Centros?
- De uno a uno
 - De uno a varios
 - De varios a varios
 - Se necesitaría una tabla intermedia



Respuestas

Cuestionario1 de Access

Pregunta	Respuesta	Pregunta	Respuesta
1	C	16	C
2	D	17	B
3	A	18	A
4	D	19	D
5	A	20	A
6	D	21	C
7	B	22	A
8	A	23	D
9	A	24	A
10	A	25	B
11	D	26	A
12	C	27	C
13	D	28	D
14	D	29	B
15	A	30	B